



Prefeitura de Rolândia
SECRETARIA MUNICIPAL DE EDUCAÇÃO
ATIVIDADES COMPLEMENTARES DE ESTUDO – COVID 19



20º ROTEIRO DE ATIVIDADES COMPLEMENTARES DE ESTUDO – COVID 19

ESCOLA MUNICIPAL MONTEIRO LOBATO

PROFESSOR: MARIANA e LILIANE

TURMA: SALA DE RECURSOS.

ALUNO(A): _____ 5º ANO _____

COMPONENTE CURRICULARES: LÍNGUA PORTUGUESA E MATEMÁTICA.

PERÍODO DE REALIZAÇÃO: 19/07/2021 a 23/07/2021 - 2º TRIMESTRE.

VÍDEO OU ÁUDIO DO PROFESSOR	- Áudio do professor com a orientação das atividades.
O QUE VAMOS ESTUDAR?	<ul style="list-style-type: none">- Sequência numérica- Decomposição- Composição- Noção de divisão- Calendário- Interpretação de gráfico
PARA QUE VAMOS ESTUDAR ESSES CONTEÚDOS?	<ul style="list-style-type: none">- Completar a sequência numérica- Compreender a composição e decomposição- Compreender calendário- Interpretar gráfico
COMO VAMOS ESTUDAR OS CONTEÚDOS	- Através de realização de atividades para desenvolver as habilidades tais como: Atenção, compreensão, sequência numérica, composição e decomposição, calendário, interpretar gráfico.
COMO VAMOS REGISTRAR O QUE APRENDEMOS?	- As atividades devem ser realizadas na folha impressa que retirou na escola para ser entregue ao professor na próxima semana de entrega para a correção, será enviado o vídeo com explicações da professora.







MATEMÁTICA

- 1) ALGUNS NÚMEROS SUMIRAM NA TABELA ABAIXO. VOCÊ SABERIA DIZER QUAIS SÃO ESSES NÚMEROS?

901	902	903	904	905	906	907	908	909	910
911	912	913	914	915	916	917	918	919	920
921	922	923	924	925	926	927	928	929	930
931	932	933	934	935	936	937	938	939	940
941	942	943	944		946	947	948	949	950
951	952	953				957	958	959	960
961	962	963	964		966	967	968	969	970
971	972	973	974	975	976	977	978	979	980
981	982	983	984	985	986	987	988	989	990
991	992	993	994	995	996	997	998	999	

- A) 945 - 965 - 965 - 966 - 967 - 1.000
B) 954 - 955 - 956 - 957 - 958 - 1.000
C) 945 - 954 - 955 - 956 - 965 - 1.000
D) 963 - 964 - 965 - 966 - 967 - 1.000

- 2) OBSERVE COMO QUATRO ALUNOS FIZERAM A DECOMPOSIÇÃO DO NÚMERO **2.345**.

			
Simone	Rubens	Juliana	Cássio
$2\ 000 + 30 + 40 + 5$	$2\ 000 + 300 + 40 + 5$	$2\ 000 + 330 + 45$	$200 + 30 + 40 + 5$

QUEM ACERTOU A RESPOSTA FOI:

- A) JULIANO
B) CÁSSIO
C) RUBENS
D) SIMONE



Prefeitura de Rolândia

SECRETARIA MUNICIPAL DE EDUCAÇÃO ATIVIDADES COMPLEMENTARES DE ESTUDO – COVID 19



3) OBSERVE O NÚMERO 4.810. EM RELAÇÃO A SUA COMPOSIÇÃO É CORRETO AFIRMAR QUE ELE É COMPOSTO POR:

- A) 4 UNIDADES DE MILHAR, 8 CENTENAS, 1 DEZENA E 0 UNIDADES.
- B) 4 CENTENAS DE MILHAR, 8 DEZENAS E 1 UNIDADE.
- C) 4 CENTENAS, 8 DEZENAS E 1 UNIDADE.
- D) 4 DEZENAS DE MILHAR, 8 CENTENAS, 1 DEZENA E 0 UNIDADES.

4) ANA DIVIDIU, IGUALMENTE, 12 FLORES EM 3 VASOS. QUANTAS FLORES FICARAM EM CADA VASO?

- A) 12 FLORES
- B) 6 FLORES
- C) 3 FLORES
- D) 4 FLORES



5) OBSERVE O CALENDÁRIO ABAIXO E DEPOIS RESPONDA:

05 MAIO 2019						
DOMINGO 1º DIA	SEGUNDA-FEIRA 2º DIA	TERÇA-FEIRA 3º DIA	QUARTA-FEIRA 4º DIA	QUINTA-FEIRA 5º DIA	SEXTA-FEIRA 6º DIA	SÁBADO 7º DIA
			01 DIA DO TRABALHO	02	03	04
05	06	07	08	09	10	11
12 DIA DAS MÃES	13	14	15	16	17	18
19	20	21	22	23	24	25
26	27	28	29	30	31	



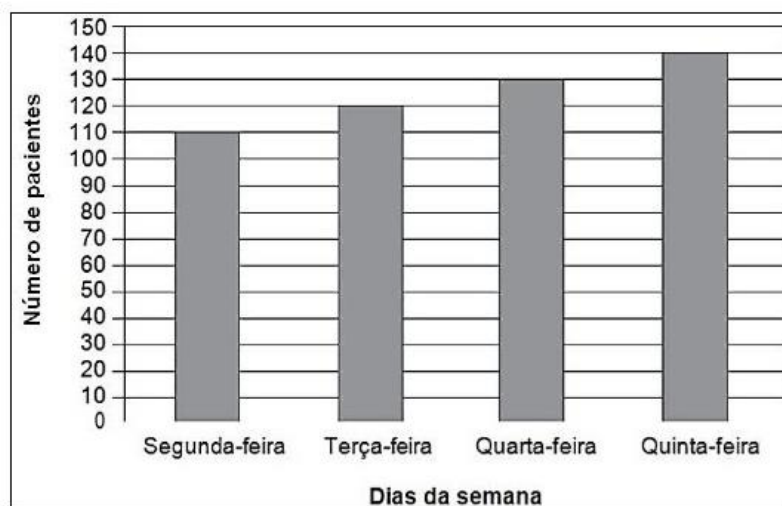
Prefeitura de Rolândia
SECRETARIA MUNICIPAL DE EDUCAÇÃO
ATIVIDADES COMPLEMENTARES DE ESTUDO – COVID 19



NO PRIMEIRO SÁBADO DE CADA MÊS TEM PLANTÃO NA ESCOLA PARA RECEBER OS PAIS. QUE DIA FOI O PLANTÃO NO MÊS DE MAIO DE 2019?

- A) DIA 04
- B) DIA 05
- C) DIA 11
- D) DIA 18

6) O GRÁFICO ABAIXO APRESENTA A QUANTIDADE DE PACIENTES ATENDIDOS EM UM HOSPITAL DURANTE QUATRO DIAS.



QUANTOS PACIENTES FORAM ATENDIDOS NESSE HOSPITAL NA QUARTA-FEIRA?

- A) 110
- B) 120
- C) 130
- D) 140